

География 9 класс

Пояснительная записка

Учебник: География России: население и хозяйство. 9 класс. Авторы: А.И.Алексеев, В.В.Николина. Просвещение, 2009-2011 гг.

Учитель: Никифорова Елена Анатольевна.

Электронная почта: elena_bronks@mail.ru

Скайп: elena.nikiforova75, удобное время связи вторник 17.30-18.00, четверг – 17.00-18.00

Главная цель изучения курса – сформировать у учащихся знания о родной стране и подвести их к пониманию своего места в стране и мире.

Содержание программы

Современное административно-территориальное и политико-административное деление страны. Федеративное устройство страны. Субъекты федерации, их равноправие и разнообразие. Федеральные округа.

Проверочная работа №1. (срок сдачи до 10.10)

Раздел. Хозяйство России

Особенности развития хозяйства России. Предприятие – первичная основа хозяйства. Условия и факторы размещения предприятий. Отраслевая структура функциональная и территориальная структуры хозяйства, их особенности.

Топливо-энергетический комплекс (ТЭК). Состав, место и значение в хозяйстве. Нефтяная, газовая, угольная промышленность: основные современные и перспективные районы добычи, система нефте- и газопроводов. Электроэнергетика: типы электростанций, их особенности и доля в производстве электроэнергии. Энергосистемы. Современные проблемы ТЭК. ТЭК и охрана окружающей среды.

Проверочная работа №2.

Металлургия. Состав, место и значение в хозяйстве. Черная и цветная металлургия: факторы размещения предприятий, особенности географии металлургии черных, легких и тяжелых цветных металлов. Металлургические базы, крупнейшие металлургические центры. Металлургия и охрана окружающей среды.

Химическая промышленность. Состав, место и значение в хозяйстве. Факторы размещения предприятий, особенности географии важнейших отраслей. Основные базы, крупнейшие химические комплексы. Химическая промышленность и охрана окружающей среды.

Лесная промышленность. Состав, место и значение в хозяйстве. Факторы размещения предприятий, особенности географии важнейших отраслей. Основные базы, крупнейшие лесоперерабатывающие комплексы. Лесная промышленность и охрана окружающей среды.

Проверочная работа №3.

Машиностроение. Состав, место и значение в хозяйстве. Факторы размещения машиностроительных предприятий. География науко-, трудо- и металлоемких отраслей. Главные районы и центры. Особенности географии военно-промышленного комплекса. Машиностроение и охрана окружающей среды.

Проверочная работа №4.

Сельское хозяйство. Отличия сельского хозяйства от других хозяйственных отраслей. Земля - главное богатство России. Сельскохозяйственные угодья, их структура. Земледелие и животноводство. География выращивания важнейших культурных растений и отраслей животноводства. Садоводство и виноградарство.

Пищевая промышленность. Состав, место и значение в хозяйстве. Группировка отраслей по характеру используемого сырья, география важнейших отраслей. Пищевая проблема в России.

Легкая промышленность. Состав, место и значение в хозяйстве. География текстильной промышленности.

Проверочная работа №5.

География коммуникаций. Роль коммуникаций в размещении населения и хозяйства. Сухопутный, водный и воздушный транспорт. Преимущества и недостатки отдельных видов транспорта. Важнейшие транспортные пути, крупнейшие транспортные узлы. Связь.

Проверочная работа №6.

География науки. Наука, ее состав и роль в жизни современного общества. География российской науки. Города науки и технополисы.

География социальной сферы. Состав, место и значение в хозяйстве. Социальная инфраструктура; ее состав и роль в современном обществе. География жилищного и рекреационного хозяйства. Жилье – одна из главных потребностей человека. Географические различия в обеспеченности россиян жильем. География рекреационного хозяйства в России.

Срок сдачи работ №2-№6 до 20.12

Раздел. Регионы России

Районирование России. Задачи, принципы и проблемы. Виды районирования.

Районы России. Состав района. Особенности географического, геополитического и эколого-географического положения, их влияние на природу, хозяйство и жизнь населения. Основные историко-географические этапы формирования района.

Население: численность, естественный прирост и миграции, специфика расселения, национальный состав, традиции и культура. Города. Качество жизни населения.

Место и роль района в социально-экономическом развитии страны. География важнейших отраслей хозяйства, особенности его территориальной организации. Географические аспекты основных экономических, социальных и экологических проблем района, региона. Внутренние природно-хозяйственные различия.

Проверочные работы №7-12. Срок сдачи работ до 15.05

В результате изучения курса ученик должен

знать/понимать

- специфику географического положения и административно-территориального устройства Российской Федерации; особенности ее природы, населения, основных отраслей хозяйства, природно-хозяйственных зон и районов;
- основные географические понятия и термины;
- особенности современного геополитического и геоэкономического положения России, ее роль в международном географическом разделении труда;

уметь

- **приводить примеры:** использования и охраны природных ресурсов, адаптации человека к условиям окружающей среды, ее влияния на формирование культуры народов; районов разной специализации, центров производства важнейших видов продукции, основных коммуникаций и их узлов, внутригосударственных и внешних экономических связей России, а также крупнейших регионов и стран мира;
- **составлять** краткую географическую характеристику разных территорий на основе разнообразных источников географической информации и форм ее представления;

использовать приобретенные знания и умения в практической деятельности и повседневной жизни для:

- решения практических задач по определению качества окружающей среды своей местности, ее использованию, сохранению и улучшению; принятия необходимых мер в случае природных стихийных бедствий и техногенных катастроф;
- проведения самостоятельного поиска географической информации на местности из разных источников: картографических, статистических, геоинформационных.

Учащиеся экстернатной формы обучения должны выполнить за год 12 проверочных работ, первое полугодие 6 работ, второе полугодие 6 работ.

Проверочная работа 1 Административно-территориальное устройство России

1. *Установите соответствие.*

1. Территория, отличающаяся своей специализацией.
2. Взаимосвязанное сочетание предприятий на территории.
3. Территориальная единица России, подчиненная непосредственно президенту.

А. ТПК Б. Экономический район. В. Федеральный округ,

2. *Выберите верные утверждения.*

- а) Конституционные полномочия республик и автономных округов больше, чем краев и областей Российской Федерации.
- б) К городам федерального значения относятся Москва, Санкт-Петербург, Нижний Новгород, Екатеринбург.
- в) В составе России выделяют 21 республику, 49 краев и 6 областей.
- г) Республики в России выделены с учетом прав отдельных народов на национальную автономию,
- д) Национальная область в составе России находится в европейской части страны.

3. *Установите соответствие между субъектами федерации и их центрами.*

Субъект федерации: 1. Ямало-Ненецкий АО. 2. Алтайский край. 3. Республика Коми.

4. Республика Бурятия.

Столица: А. Улан-Удэ. Б. Сыктывкар. В. Салехард. Г. Барнаул.

4. *Выберите вариант, в котором указаны только столицы республик России:*

- а) Казань, Нарьян-Мар, Салехард; б) Петрозаводск, Уфа, Элиста;
- в) Екатеринбург, Саранск, Анадырь; г) Хабаровск, Биробиджан, Якутск.

5. *Укажите вариант, в котором все субъекты федерации граничат с иностранными государствами:*

- а) Республика Коми, Чукотский АО, Свердловская область;
- б) Псковская, Брянская, Белгородская области;
- в) Республика Татарстан, Республика Башкортостан, Приморский край;
- г) Тамбовская область, Пензенская область, Республика Саха (Якутия).

6. *Укажите вариант, в котором все субъекты федерации имеют морские границы:*

- а) Калининградская, Магаданская, Мурманская области;
- б) Приморский, Алтайский, Краснодарский края;

в) Республики Татарстан, Башкортостан, Тыва.

7. Укажите субъекты федерации, выделяемые по административно-территориальному признаку:

- а) Республика Татарстан; б) Вологодская область;
в) Еврейская автономная область; г) Ханты-Мансийский автономный округ;
д) Хабаровский край; е) город Москва.

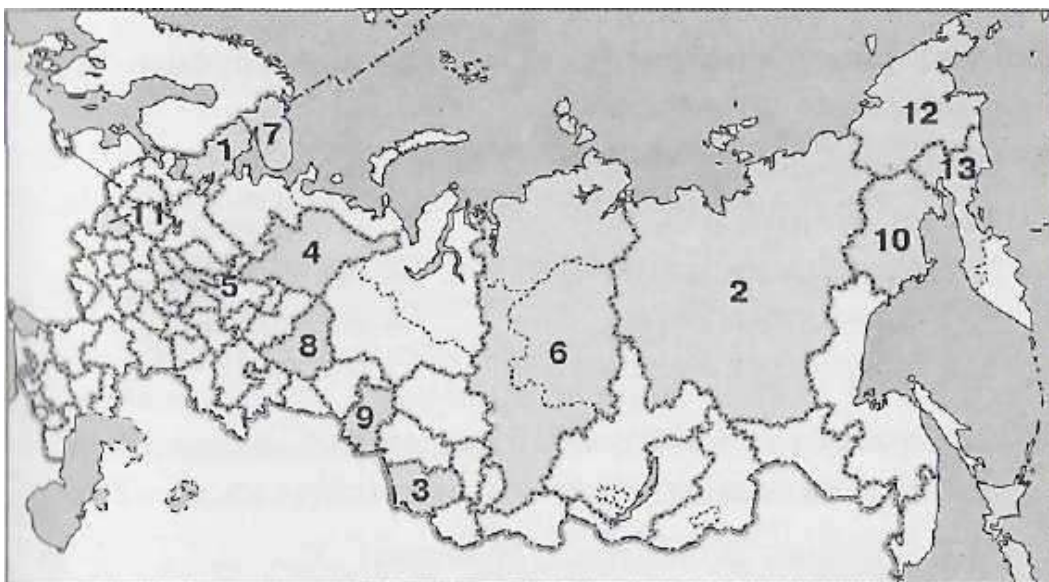
8. Укажите субъекты федерации, расположенные в азиатской части России:

- а) Республика Тыва; б) Приморский край; в) Вологодская область;
г) Еврейская автономная область; д) Республика Мордовия; е) Хабаровский край.

9. Укажите территории России, вошедшие в ее состав после 1940 г.:

- а) Республика Тыва; б) Волгоградская область; в) Приморский край; г) Курильские острова;
д) острова Шпицберген; е) Калининградская область.

10. Определите, какими цифрами на рис. обозначены: а) Мурманская область; б) Свердловская область; в) Республика Карелия; г) Чукотский АО; д) Республика Саха (Якутия); е) Омская область; ж) Алтайский край.



Проверочная работа 2 Топливо-энергетический комплекс

1. Дополните предложения. Топливно-энергетический комплекс и вместе составляют Группа электростанций, объединенных, образует

2. Дополните схему, правильно расставив



соответствующие цифры.

- 1 — Неисчерпаемые ресурсы; 2 — торф;
 3 — исчерпаемые ресурсы; 4 — энергия ветра;
 5 — невозобновимые ресурсы; 6 — урановые руды;
 7 — возобновимые ресурсы; 8 — дрова;
 9 — энергия Солнца; 10 — природный газ.

3. Установите соответствие между типами электростанций и регионами России, в электроэнергетике которых они занимают значительное место.

Тип электростанции: 1. ТЭС. 2. ГЭС. 3. АЭС.

Регион России: А. Центральная Россия. Б. Западная Сибирь. В. Восточная Сибирь.

4. Укажите каменноугольный бассейн:

- а) Канско-Ачинский; б) Подмосковский; в) Печорский; г) Ленский.

5. Выберите из списка ГЭС: а) Сургутская; б) Братская; в) Курская; г) Кислогубская.

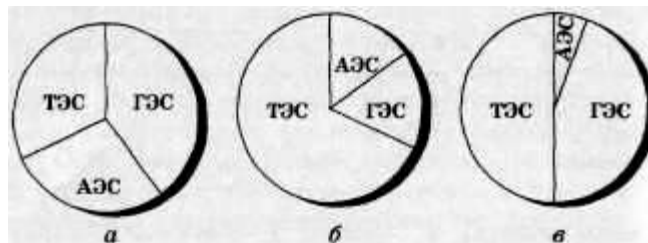
6. Выберите главный газодобывающий регион России:

- а) Центральная Россия; б) Дальний Восток; в) Северный Кавказ; г) Западная Сибирь.

7. Укажите угольный бассейн России, где объемы добычи самые значительные:

- а) Кузнецкий; б) Донецкий; в) Канско-Ачинский; г) Печорский.

8. В. Выберите диаграмму, которая правильно показывает соотношение между ТЭС, ГЭС и АЭС в выработке электроэнергии в России.



9. Укажите правильные утверждения.

- а) Перевод ТЭС на нефть позволит снизить себестоимость электроэнергии.
 б) Россия лидирует в мире по добыче нефти.
 в) Открытый способ добычи угля наносит меньше вреда природе, чем шахтный.
 г) Себестоимость добычи угля в Канско-Ачинском бассейне самая низкая в стране.
 д) Добыча нефти и газа в России ведется во все более сложных природных условиях.

10. Проанализируйте карту «Запасы и продуктивность используемых топливных ресурсов России» на рис. 19 и укажите верные утверждения.

- а) Азиатская часть России обеспечена топливными ресурсами лучше, чем европейская.



б) В европейской части России запасы топливных полезных ископаемых сосредоточены на северо-западе. Рис. 19

в) На Урале и в Поволжье запасы и продуктивность используемых ресурсов природного топлива крайне низки.

г) Центральная Россия обладает значительными запасами топливных ресурсов.

д) Запасы и продуктивность используемых топливных ресурсов максимальны в Западной Сибири.

Проверочная работа 3 Комплекс конструкционных материалов

1. А) *Предприятие, в пределах которого сосредоточены взаимосвязанные между собой производства различных отраслей, — это:* а) отрасль; б) база; в) комбинат; г) кооператив.

В) *Сосредоточение производства определенного вида продукции на крупных предприятиях, ориентированных на богатые месторождения сырья, - это:* а) отраслевая структура; б) специализация; в) концентрация; г) кооперирование.

Г) *Сосредоточение в районе производства определенной продукции или услуг, значительная часть которых предназначена для экспорта, — это:* а) отраслевая структура; б) специализация; в) концентрация; г) комбинирование.

2. *Установите соответствие.*

Фактор размещения: 1. Потребительский. 2. Сырьевой. 3. Водный. 4. Энергетический.

Предприятие: А. Алюминиевый комбинат. Б. Лесопильный завод. В. Целлюлозно-бумажный комбинат. Г. Мебельная фабрика.

3. *Укажите месторождение железной руды:* а) Талнахское; б) Качканарское; в) Ревдинское; г) Полуночное.

4. *Укажите неверное сочетание «город — металл — фактор размещения»:*

а) Красноярск — алюминий — энергетический; б) Череповец — медь — сырьевой; в) Норильск — никель — сырьевой; г) Магнитогорск — сталь — сырьевой.

5. *Укажите лесодефицитные районы России:*

а) Центральная Россия, Поволжье; б) Европейский Север, Западная Сибирь; в) Урал, Дальний Восток; г) Восточная Сибирь, Европейский Север.

6. *Выделите строку, где перечислены предприятия, ориентированные на ГЭС:*

а) нефтеперерабатывающий завод, горно-обогатительная фабрика;
б) алюминиевый комбинат, целлюлозно-бумажный комбинат;
в) завод по производству удобрений, коксофабрика;
г) металлургический комбинат полного цикла, завод по производству химических волокон.

7. *Выберите ошибочную схему взаимосвязей:*

а) бокситы —> глинозем —> выплавка алюминия;

- б) нефть → нефтепереработка → производство калийных удобрений;
- в) лесозаготовка → сплав леса → лесопильные предприятия;
- г) добыча фосфоритов → производство удобрений.

8. Укажите верные утверждения.

- а) Для России характерен высокий уровень концентрации производств комплекса конструкционных материалов.
- б) Влияние производств комплекса конструкционных материалов на окружающую среду незначительно.
- в) Предприятия по производству легких металлов ориентированы на близость источников сырья.
- г) Истощение собственных ресурсов привело к снижению доли Урала в производстве российского металла.
- д) Производство фосфорных удобрений тяготеет к потребителю, а калийных — к районам добычи сырья.

9. Дополните предложения. Для черной металлургии характерна большая, так как для производства 1 т стали требуется 7 т сырья и топлива. При размещении предприятий цветной металлургии необходимо учитывать фактор, так как только один медеплавильный завод выбрасывает в атмосферу 2 млрд м³ вредных газов. Центральная химическая база имеет дефицит

ресурсов, поэтому ориентирована на

10. Определите, какими цифрами на рис. 21 обозначены металлургические центры: а)

Череповец; б) Старый Оскол;

в) Магнитогорск; г)

Новокузнецк; д) Братск; е)

Кандалакша; ж) Медногорск; з) Мончегорск.



Проверочная работа 4 Машиностроительный комплекс

1. Установите соответствие.

1. Производственные связи между предприятиями.
2. Сочетание на одном предприятии связанных производств разных отраслей.
3. Перевод оборонного комплекса на производство мирной продукции.

А. Комбинирование. Б. Кооперирование. В. Конверсия.

2. Дополните схему, правильно расставив соответствующие цифры.



1 — Тяжелое машиностроение; 2 — точное машиностроение; 3 — энергетическое машиностроение; 4 — приборостроение; 5 — производство горно-шахтного оборудования; 6 — радиотехническое и электронное машиностроение.

3. Установите соответствие.

Отрасль машиностроения: 1. Тракторостроение. 2. Производство кузнечно-прессового оборудования. 3. Приборостроение. 4. Автомобилестроение.

Фактор размещения: А. Потребительский. Б. Транспортный, В. Научный, Г. Сырьевой.

4. Укажите отрасль металлоемкого машиностроения:

а) станкостроение; б) тракторостроение; в) производство металлургического оборудования; г) авиастроение.

5. Выделите район, благоприятный для размещения завода по производству сельскохозяйственной техники: а) Якутия; б) Магаданская область; в) Хабаровский край; г) Ростовская область.

6. Укажите верное сочетание «город — отрасль машиностроения»:

а) Челябинск — автомобилестроение; б) Ижевск — производство тракторов;
в) Мурманск — авиастроение; г) Энгельс — производство троллейбусов.

7. В эпоху НТР опережающие темпы развития характерны для:

а) тяжелого машиностроения; б) транспортного машиностроения;
в) точного машиностроения; г) сельскохозяйственного машиностроения.

8. Укажите верное утверждение.

а) Авиастроение и станкостроение отличаются высокой металлоемкостью и трудоемкостью.
б) Предприятия сельскохозяйственного машиностроения ориентированы на потребителя.
в) Приборостроение, радиотехническое машиностроение и электронное машиностроение отличаются высокой металлоемкостью и низкой трудоемкостью.
г) Отрасли ВПК располагаются преимущественно в приграничных районах России.

9. Выделите среди предложенных городов:

а) центры производства легковых автомобилей; б) центры производства грузовых автомобилей; в) центры производства и грузовых и легковых автомобилей.

1) Москва; 2) Набережные Челны; 3) Нижний Новгород; 4) Ижевск; 5) Ульяновск;
б) Тольятти.

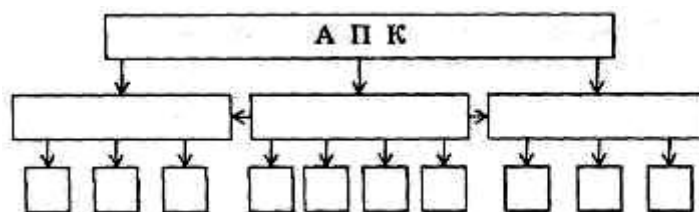
Проверочная работа 5 Агропромышленный комплекс (АПК)

1. Выберите правильные утверждения.

- а) В сельском хозяйстве России работает больше людей, чем в промышленности.
- б) В конце XIX — начале XX в. Россия была преимущественно сельскохозяйственной страной.
- в) В структуре сельского хозяйства России преобладает растениеводство.
- г) На большей части территории России для развития сельского хозяйства необходимы мелиоративные работы.
- д) Экстенсивное кочевое животноводство наиболее характерно для горных областей России.
- е) Роль молочного и мясо-молочного направления животноводства возрастает с юга на север.
- ж) Наибольшее развитие сельское хозяйство получило в природных зонах тайги и лесостепи.

2. Дополните схему, правильно расставив соответствующие цифры.

- 1- Пищевая промышленность; 2 - сельское хозяйство; 3 - легкая промышленность; 4 - льноводство;
 5 - текстильная промышленность;
 6 - швейная промышленность;
 7 - мукомольная промышленность;
 8 - свекловодство; 9 - виноделие;
 10- кожевенно-обувная промышленность;
 11- мясная промышленность; 12 - виноградарство; 13 - сахаро-рафинадная промышленность.



3. Установите соответствие.

Отрасль промышленности: 1. Сыродельная. 2. Швейная. 3. Мукомольная.

Фактор размещения: А. Сырьевой. Б. Потребительский. В. Сырьевой и потребительский.

4. Укажите технические культуры:

- а) лен, виноград; б) рис, соя; в) хлопчатник, подсолнечник; г) горох, овес.

5. Укажите район овцеводства:

- а) Якутия; б) Республика Алтай; в) Ивановская область; г) Московская обл.

6. Укажите верные сочетания «район — сельскохозяйственные культуры»:

- а) Северный Кавказ: рис, цитрусовые, виноград; б) Поволжье: зерновые, бахчевые;
 в) Центрально-Черноземный район: рис, соя, табак; г) Дальний Восток: подсолнечник, рожь, сахарная свекла.

7. Выберите экономические районы, где развито свеклосахарное производство:

- а) Северо-Кавказский; б) Волго-Вятский; в) Дальневосточный; г) Центрально-Черноземный.

8. Выберите **ошибочную** схему взаимосвязей:

- а) скотоводство —> молоко —> масло - сыродельная промышленность;

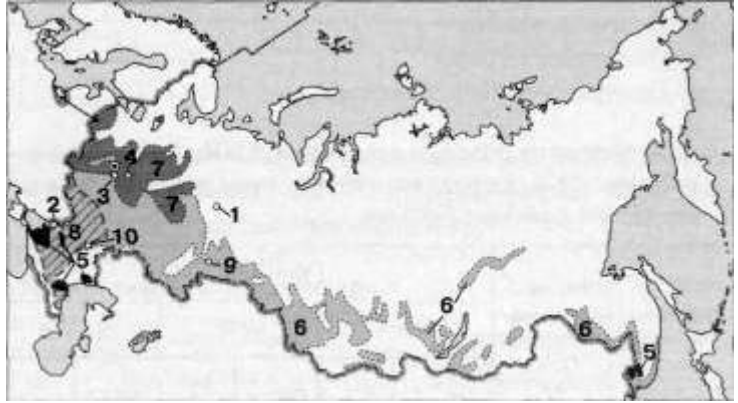
- б) сахарная свекла → сахарная промышленность → производство спирта;
 в) лен → швейная промышленность → текстильная промышленность;
 г) пшеница → мукомольная промышленность → макаронная промышленность.

9. Определите, какими цифрами на рис.

обозначены: а) районы выращивания яровой пшеницы;

б) районы выращивания риса; в) центр производства калийных удобрений;

г) центр производства комбайнов.



Проверочная работа 6 Транспортный комплекс

1. Дополните предложения. Совокупность всех видов транспорта, объединенных транспортными путями, — это Пункт, в котором сходятся несколько транспортных путей, — это

Произведение количества перевезенного груза на дальность его перевозки — это

2. Выделите правильные утверждения.

- а) Транспортный комплекс относится к непродуцственной сфере.
 б) Строительство железных дорог в России началось во второй половине XIX в.
 в) Грузооборот трубопроводного транспорта в России больше, чем железнодорожного.
 г) Порты на Северном Ледовитом океане по грузообороту превосходят тихоокеанские порты.
 д) Балтийский и Каспийский бассейны объединены Единой глубоководной системой.
 е) Себестоимость перевозок автомобильным транспортом в России одна из самых низких в мире.
 ж) Во внешнеэкономических связях России наибольшую роль играет морской транспорт.
 з) Наибольшая плотность транспортной сети характерна для Сибири и Дальнего Востока.
 и) Перевозку грузов и пассажиров в зоне Севера в основном выполняет речной транспорт.
 к) В России преобладают железные и автомобильные дороги меридионального направления.

3. Установите соответствие между видами транспорта и перевозимыми грузами.

Вид транспорта: 1. Автомобильный. 2. Водный. 3. Воздушный.

Грузы: А. Руда, зерно, уголь. Б. Цветы, фрукты. В. Мебель, одежда, консервы.

4. Укажите порт Северного морского пути:

- а) Владивосток; б) Находка; в) Тикси; г) Выборг.

5. Укажите вид транспорта, лидирующий в России по пассажирообороту:

а) железнодорожный; б) авиационный; в) городской; г) водный.

6. Установите верное сочетание «порт— важнейшие грузы»:

а) Архангельск — нефть; б) Новороссийск — зерно; в) Игарка — лес; г) Махачкала — руда.

7. Выберите регионы России, по территории которых проходит БАМ:

а) Республика Коми; б) Республика Бурятия; в) Алтайский край; г) Амурская область.

8. Выберите кратчайший железнодорожный маршрут из Москвы в Сочи, проходящий только по территории России:

а) Москва — Белгород — Луганск — Ростов-на-Дону — Сочи;
 б) Москва — Воронеж — Ростов-на-Дону — Краснодар — Сочи;
 в) Москва — Курск — Мариуполь — Новороссийск — Сочи.

9. Установите соответствие.

1) Порты Азово-Черноморского бассейна 2) Порты вывоза руд 3) Порты ввоза-вывоза зерна
 А) Мурманск, Кандалякша, Дудинка. Б) Новороссийск, Темрюк, Туапсе,
 В) Калининград, Санкт-Петербург, Владивосток.

10. Оцените влияние различных видов транспорта на окружающую среду.

Вид транспорта	Загрязнение			Урон животному миру
	вод	воздуха	почв	
1. Автомобильный				
2. Речной				
3. Железнодорожный				

В — высокий уровень; С — средний уровень; Н — низкий уровень

II полугодие

Проверочная работа 7 Центральная Россия

1. Укажите экономические районы, которые входят в состав Центральной России:

а) Центральный; б) Центрально-Черноземный; в) Северный; г) Уральский;
 д) Поволжский; е) Северо-Кавказский.

2. Укажите субъекты федерации, которые входят в состав Центрального района:

а) Ленинградская область; б) Кировская область; в) Вологодская область;
 г) Владимирская область; д) Московская область; е) Рязанская область; ж) Псковская

область; з) Смоленская область; и) Воронежская область.

3. Выберите неверные утверждения.

- а) Центральная Россия граничит с Украиной и Белоруссией,
- б) Центральная Россия расположена в центре Русской равнины.
- в) Центральная Россия лежит в междуречье Оки и Волги.
- г) Транспортная сеть Центральной России имеет радиально-кольцевую структуру.
- д) На территории Центральной России находятся крупные морские и речные порты.

4. Укажите природные ресурсы Центральной России, имеющие общероссийское значение:

- а) фосфориты, железные руды, почвы; б) бокситы, нефть, газ; в) апатиты, уголь, лес;
- г) агроклиматические, водные, гидроэнергетические ресурсы.

5. Выберите области в составе Центральной России, на территории которых ведется добыча железных руд:

- а) Белгородская и Курская; б) Орловская и Липецкая; в) Тульская и Калужская;
- г) Курская и Липецкая.

6. Укажите области в составе Центральной России, на территории которых добывают фосфориты:

- а) Брянская и Кировская; б) Брянская и Воронежская; в) Курская и Тульская;
- г) Липецкая и Белгородская.

7. Установите соответствие.

Тип электростанций: 1. АЭС. 2. ТЭС. 3. ГЭС.

Примеры: А. Рыбинская, Угличская, Загорская. Б. Шатурская, Каширская, Конаковская. В. Обнинская, Смоленская, Нововоронежская.

8. Выберите отрасли специализации сельского хозяйства Центрально-Черноземного района:

- а) свиноводство, птицеводство, овощеводство;
- б) льноводство, картофелеводство, молочное скотоводство;
- в) свекловодство, зерновое хозяйство, садоводство, свиноводство;
- г) виноградарство, хлопководство, овцеводство.

9. Установите соответствие между отраслями транспортного машиностроения и их центрами.

Отрасль машиностроения: 1. Автомобилестроение. 2. Авиастроение. 3. Железнодорожное машиностроение

Центр: А. Голицыно. Б. Демихово. В. Жуковский. Г. Коломна. Д. Ликино-Дулево. Е. Брянск.

10. Укажите вариант, в котором перечислены города «Золотого кольца» России:

- а) Ярославль, Суздаль, Владимир; б) Новгород, Псков, Ростов;
- в) Смоленск, Курск, Брянск; г) Москва, Нижний Новгород, Рязань.

Проверочная работа 8 Северо-Запад и Калининградская область

1. Найдите **неверные** утверждения.

- а) Северо-Западный район граничит с Северным, Волго-Вятским и Центральным экономическими районами.
- б) Северо-Западный район соседствует с Вологодской и Тверской областями, а также с республикой Карелия.
- в) Северо-Западный район имеет выгодное приморское положение.
- г) Северо-Западный район удален от промышленно развитых районов и имеет невыгодное положение внутри страны.
- д) Северо-Западный район граничит с Эстонией, Латвией и Финляндией.

2. Укажите минеральные ресурсы Северо-Западного района:

- а) нефть; б) уголь; в) янтарь; г) сланцы.

3. Установите соответствие между городами Северо-Западного района и временем их возникновения.

Город: 1. Санкт-Петербург. 2. Пушкин. 3. Выборг. 4. Новгород.

Время возникновения: А. До XIII в. Б. XVIII в. В. XV в. Г. XIX в.

4. Плотность населения Северо-Западного района больше, чем:

- а) Северного; б) Центрально-Черноземного; в) Центрального; г) Уральского,

5. Укажите населенный пункт Северо-Западного района, вблизи которого ведется добыча фосфоритов: а) Волхов; б) Тихвин; в) Сланцы; г) Кингисепп.

6. Укажите населенный пункт, где расположен один из крупнейших целлюлозно-бумажных комбинатов Северо-Западного района:

- а) Кондопога; б) Сегежа; в) Светогорск; г) Сыктывкар.

7. Установите соответствие.

Тип электростанции: 1. АЭС 2. ТЭС. 3. ГЭС.

Пример: А. Киришская, Б. Ленинградская. В. Волховская.

8. Укажите отрасль сельскохозяйственной специализации Северо-Западного района:

- а) рыболовство; б) садоводство; в) молочное скотоводство; г) зерновое хозяйство.

9. Укажите памятники архитектуры Санкт-Петербурга:

- а) Русский музей, Грановитая палата, Казанский собор;
- б) Эрмитаж, Аничков мост, Адмиралтейство;
- в) Третьяковская галерея, Дворец съездов, собор Василия Блаженного.

10. Установите соответствие между субъектами федерации в составе Северо-Западного района и их специализацией.

Субъект федерации: 1. Ленинградская область. 2. Псковская область. 3. Калининградская область. 4. Новгородская область.

Специализация: А. Судостроение, рыбная промышленность, добыча янтаря,

Б. Машиностроение, химия полимеров, цветная металлургия.

В. Машиностроение, маслосыродельная промышленность, льняная промышленность.

Г. Машиностроение, фарфоро - фаянсовая промышленность, производство азотных удобрений.

Проверочная работа 9 Европейский Север

1. *Укажите субъекты федерации, которые входят в состав Европейского Севера:*

- а) Ленинградская область; б) Мурманская область; в) Республика Карелия;
г) Вологодская область; д) Республика Коми; е) Республика Якутия;
ж) Псковская область; з) Новгородская область; и) Архангельская область.

2. *Выберите верные утверждения.*

- а) Северный район — крупнейший по территории экономический район в Западной зоне.
б) Северный район занимает выгодное приморское положение.
в) Северный район обладает развитой транспортной инфраструктурой, связывающей его с Центральной Россией.
г) Северный район имеет невыгодное соседское положение по отношению к экономически развитым районам европейской части страны.
д) Северный район имеет выгодное положение по отношению к внешнеторговым партнерам России.

3. *Выберите вариант, неверно характеризующий природно-ресурсный потенциал Европейского Севера:*

- а) Балтийский щит —> гидроэнергетические ресурсы;
б) осадочный чехол платформы —> золото;
в) географическое положение —> зона тайги;
г) выход к морю —> рыбные ресурсы.

4. *Выберите вариант, где указаны народы, проживающие на Европейском Севере:*

- а) карелы, ханты, ненцы; б) русские, коми, саамы;
в) ненцы, коряки, манси; г) якуты, манси, коми-пермяки.

5. *Укажите век, в котором Европейский Север начал заселяться русскими:*

- а) XI в.; б) XVII в.; в) XVIII в.; г) XIX в.

6. *Укажите крупнейшие морские порты Северного района:*

- а) Беломорск, Диксон, Салехард; б) Петрозаводск, Северодвинск, Нарьян-Мар;

в) Мурманск, Архангельск, Кандалакша; г) Североморск, Онега, Архангельск.

7. *Никелевая промышленность Европейского Севера ориентируется на:*

а) потребителя и ресурсы гидроэнергии; б) сырье и потребителя; в) транспортные пути и сырье.

8. *Укажите АЭС, действующую на Европейском Севере:*

а) Кольская; б) Паужетская; в) Кислогубская; г) Кандалакшская.

9. *Установите соответствие между подрайонами Европейского Севера и их специализацией.*

Подрайон: 1. Карело-Мурманский. 2. Двинско-Печорский. 3. Вологодская область.

Специализация: А. Черная металлургия, АПК. Б. Горно-химическая промышленность, гидроэнергетика, цветная металлургия. В. Нефтегазовая промышленность, теплоэнергетика, лесопромышленный комплекс.

10. *Выберите проблемы, которые актуальны для Европейского Севера:*

а) развитие системы автомобильных и железных дорог;

б) комплексная переработка руд цветных металлов и древесины;

в) борьба с эрозией почв и мелиорация земель;

г) рекультивация земель в местах добычи полезных ископаемых;

д) ликвидация космодрома Плесецк, как центра экологической опасности;

е) борьба с загрязнением поверхностных вод и Баренцева моря.

11. *Установите соответствие между отраслями специализации Европейского Севера и их центрами.*

Отрасль специализации: 1. Цветная металлургия. 2. Черная металлургия. 3. Целлюлозно-бумажная промышленность. 4. Топливная промышленность.

Центры: А. Череповец. Б. Ухта, Воркута. В. Мончегорск. Г. Новодвинск, Кондопога.

Проверочная работа 10 Северный Кавказ

1. *Укажите субъекты федерации, которые не входят в состав Северо-Кавказского экономического района:*

а) Республика Дагестан; б) Республика Ингушетия; в) Кабардино-Балкарская Республика;

г) Красноярский край; д) Ростовская область; е) Ставропольский край;

ж) Краснодарский край; з) Оренбургская область; и) Республика Татарстан.

2. *Укажите самую восточную республику в составе Северо-Кавказского района:*

а) Республика Адыгея; б) Кабардино-Балкарская Республика;

в) Республика Дагестан; г) Чеченская Республика.

3. *Выберите неверные утверждения.*

а) Северный Кавказ занимает пограничное положение между равнинами и горами.

б) Северный Кавказ имеет выгодное приморское экономико-географическое положение.

- в) Для Северного Кавказа характерен однонациональный состав населения и самая низкая доля сельского населения.
- г) Для Северного Кавказа характерно отрицательное сальдо миграций и высокий естественный прирост населения.
- д) Специализацию Северо-Кавказского района определило его географическое положение и наличие трудовых и агроклиматических ресурсов.

4. Укажите природные ресурсы Северо-Кавказского района:

- а) руды черных металлов, фосфориты;
- б) топливные полезные ископаемые, рекреационные и агроклиматические ресурсы;
- в) каменный уголь, калийные соли, лесные ресурсы;
- г) драгоценные камни, почвенные и гидроэнергетические ресурсы.

5. Выберите вариант, где перечислены курортные города Черноморского побережья Кавказа:

- а) Таганрог, Ейск, Темрюк; б) Анапа, Геленджик, Сочи; в) Азов, Туапсе, Махачкала;
- г) Кисловодск, Краснодар, Ставрополь.

6. Установите соответствие между районами Северного Кавказа и их сельскохозяйственной специализацией.

Район: 1. Ставропольская возвышенность. 2. Долины Дона и Кубани. 3. Приазовские и

Сельскохозяйственная специализация: А. Выращивание кукурузы на зерно.

Б. Выращивание озимой пшеницы. В. Выращивание риса.

7. Установите соответствие между отраслями промышленности и их центрами на Северном Кавказе.

Отрасль специализации: 1. Кожевенно-обувная промышленность. 2. Изготовление ковров.

3. Мебельная промышленность.

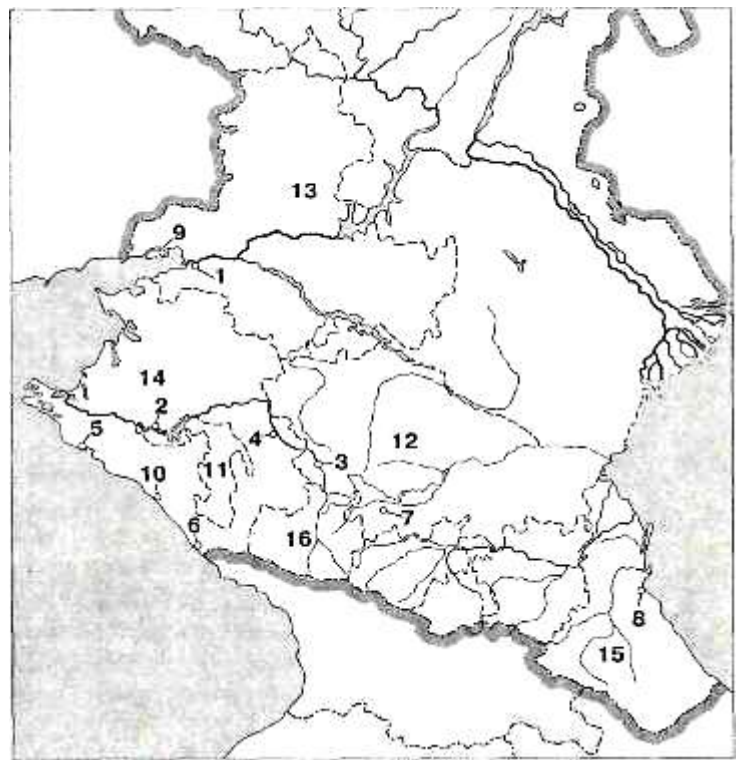
Центры: А. Армавир, Майкоп, Б. Владикавказ. В. Махачкала, Краснодар.

8. Укажите металлургический центр Северного Кавказа:

- а) Таганрог; б) Грозный; в) Новороссийск;
- г) Краснодар.

9. Определите цифры, которыми на рис.

- обозначены: а) Ставропольский край; б) Ростовская область; в) Республика Адыгея; г) Туапсе; д) Ростов-на-Дону; е) Краснодар; ж) Невинномысск; з) Армавир.



10. Распределите народы Северного Кавказа по языковым семьям.

Языковая семья: 1. Индоевропейская. 2. Северокавказская. 3. Алтайская.

Народ: А. Кабардинцы. Б. Чеченцы. В. Осетины. Г. Адыгейцы. Д. Ингуши.
Е. Карачаевцы. Ж. Балкарцы.

Проверочная работа 11 Урало-Поволжье

1. Укажите субъекты федерации, которые входят в состав Урало-Поволжья:

а) Республика Мордовия; б) Республика Калмыкия; в) Республика Башкортостан;
г) Республика Тыва; д) Республика Хакасия; е) Удмуртская Республика.

2. Укажите субъекты федерации, которые **не входят** в состав Уральского района:

а) Республика Башкортостан; б) Омская область; в) Удмуртская Республика;
г) Курганская область; д) Челябинская область; е) Пермский край;
ж) Оренбургская область; з) Республика Татарстан.

3. Выберите **неверные** утверждения.

а) Поволжский и Уральский экономические районы граничат с Западно-Сибирским экономическим районом.
б) Урало-Поволжье находится в центре России.
в) Урало-Поволжье находится на границе Западной и Восточной экономических зон.
г) Урало-Поволжье расположено в бассейне реки Оби.
д) Урало-Поволжье пересекается широтными железнодорожными магистралями.

4. Выберите вариант, где перечислены природные ресурсы Поволжского экономического района:

а) руды черных и цветных металлов, калийные соли;
б) топливные, гидроэнергетические и агроклиматические ресурсы;
в) уголь, химическое сырье, лесные ресурсы;
г) рекреационные и водные ресурсы, слюда.

5. Укажите часть Поволжского района, где сосредоточен его основной экономический потенциал:

а) побережье Волги; б) юг; в) север; г) Заволжье.

6. Выделите крупнейшие центры цветной металлургии Урала:

а) Волгоград, Красноуральск, Медногорск; б) Орск, Краснотурьинск, Верхний Уфалей;
в) Миасс, Пермь, Уфа; г) Екатеринбург, Самара, Казань.

7. Установите соответствие между отраслями машиностроения, развитыми на Урале, и их центрами.

Отрасль: 1. Автомобилестроение. 2. Тяжелое машиностроение. 3. Тракторостроение.

Центры: А. Челябинск. Б. Екатеринбург, В. Ижевск, Миасс.

8. Укажите отрасли специализации сельского хозяйства Среднего Поволжья:

- а) овцеводство, верблюдоводство;
- б) зерновое хозяйство, мясо-шерстное животноводство, птицеводство;
- в) льноводство, картофелеводство, молочное скотоводство;
- г) хлопководство, садоводство.

9. Установите соответствие между отраслями специализации Поволжского экономического района и их центрами.

Отрасль специализации: 1. Рыбная промышленность. 2. Химическая промышленность. 3. Авиастроение. 4. Автомобилестроение.

Центр: А.Сызрань, Б. Волжский. В. Самара, Г. Набережные Челны. Д. Нижнекамск. Е. Ульяновск, Ж. Чапаевск. З. Астрахань.

Проверочная работа 12 Восточная экономическая зона

1. Укажите субъекты федерации, которые **не входят** в состав Восточно-Сибирского экономического района: а) Республика Саха (Якутия); б) Республика Хакасия; в) Республика Бурятия; г) Красноярский край; д) Республика Коми; е) Республика Тыва; ж) Забайкальский край; з) Приморский край; и) Тюменская область.

2. Выберите народы, имеющие автономию на территории Дальневосточного экономического района: а) русские; б) евреи; в) чукчи; г) татары; д) удмурты; е) якуты; ж) карелы; з) коряки.

3. Выберите верные утверждения.

- а) Плотность населения в Восточной экономической зоне возрастает с запада на восток.
- б) Население Восточной экономической зоны многонационально, но преобладают русские.
- в) На территории Восточно-Сибирского и Западно-Сибирского экономических районов есть города-миллионеры.
- г) В Восточной экономической зоне доля городского населения очень велика.
- д) Для Восточной экономической зоны характерно положительное сальдо миграций.

4. Укажите отрасли специализации Западно-Сибирского экономического района:

- а) электроэнергетика, судостроение, текстильная промышленность;
- б) целлюлозно-бумажная и рыбная промышленность, сельское хозяйство;

в) нефтяная, газовая, угольная и металлургическая промышленность;

г) автомобилестроение, химическая и лесная промышленность.

5. Выберите субъекты федерации Восточной экономической зоны, где расположена большая часть алюминиевых комбинатов:

а) Кемеровская область и Республика Хакасия; б) Красноярский край и Иркутская область;

в) Красноярский край и Кемеровская область; г) Новосибирская область и Республика Бурятия.

6. Укажите век основания первых российских городов в Сибири — Тобольска и Тюмени:

а) XV в.; б) XVI в.; в) XVIII в.; г) XVII в.

7. Выберите верные утверждения.

а) Сельское хозяйство — отрасль специализации Дальневосточного экономического района.

б) Дальневосточный район обладает богатыми и разнообразными природными ресурсами.

в) Транспортная сеть Дальневосточного экономического района отличается чрезвычайной густотой.

г) Население Дальневосточного района однонационально.

д) Дальневосточный район — крупнейший по площади экономический район России.

е) Дальневосточный район специализируется на производстве товаров народного потребления.

8. Установите соответствие между полезными ископаемыми Восточной экономической зоны и их месторождениями.

Полезные ископаемые: 1. Нефть и газ. 2. Медно-никелевые руды. 3. Уголь. 4. Железные руды.

Месторождения: А. Коршуновское. Б. Черемхово, Нерюнгри. В. Уренгой, Медвежье.

Г. Талнахское, Удоканское.

9. Установите соответствие между районами Восточной экономической зоны и их хозяйственной специализацией.

Район: 1. Обь-Иртышский. 2. Якутский. 3. Ангаро-Енисейский.

Специализация: А. Добыча алмазов, каменного угля. Б. Нефтяная и газовая промышленность, машиностроение, зерновое хозяйство. В. Цветная металлургия, машиностроение, целлюлозно-бумажная и лесохимическая промышленность.

10. Установите соответствие между отраслями специализации Восточно-Сибирского экономического района и их центрами.

Отрасль специализации: 1. Цветная металлургия. 2. Целлюлозно-бумажная промышленность. 3. Машиностроение.

Центры: А. Байкальск, Селенгинск. Б. Братск, Шелехов. В. Красноярск, Иркутск.